


9. С помощью линейки и карандаша соедини все данные точки отрезками так, чтобы получилась незамкнутая ломаная из пяти звеньев.



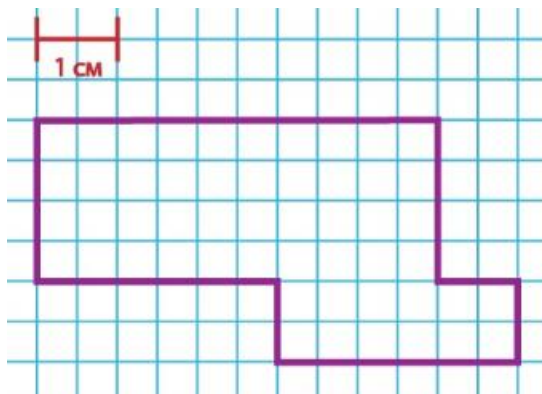
10. Реши задачу.

Свете нужно разложить всех слоников в 3 коробки. По сколько слоников окажется в каждой коробке? В ответ запиши только число.



Ответ: по _____ с.

11. Рассмотрите рисунок.



Вычисли периметр многоугольника и запиши ответ.

Ответ: _____ см.

12. Рассмотрите таблицу.

В таблице указано, какие кружки посещают второклассники.

| Название кружка | Мальчики (человек) | Девочки (человек) |
|-----------------------|--------------------|-------------------|
| Художественная студия | 6 | 6 |
| Танцевальная студия | 11 | 7 |
| Театральная студия | 4 | 12 |

Ответ с помощью таблицы на вопросы:

А. Какой кружок посещает одинаковое количество девочек и мальчиков? В ответ запиши только название кружка.

Ответ: _____.

Б. Сколько всего второклассников посещает кружок «Танцевальная студия»? В ответ запиши только число.

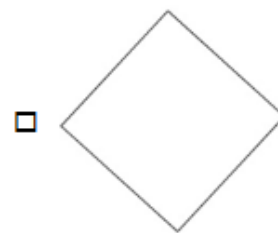
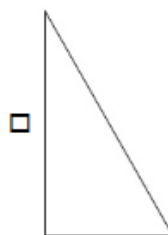
Ответ: _____ чел.

В. На сколько больше девочек, чем мальчиков, посещает кружок «Театральная студия»? В ответ запиши только число.

Ответ: на _____ чел.

13. Рассмотрите фигуры.

Отметьте знаком фигуру, у которой нет прямого угла.



14. Прочитай.

У Поли, Миры и Вали живут кошки трёх пород: сибирская, британская и персидская. У Поли – не сибирская, у Вали – не британская и не сибирская. Определи, какой породы кошка живёт у каждой из девочек.

Рассмотри рисунки и запиши номер породы кошки около имени каждой девочки.



британская кошка



сибирская кошка



персидская кошка

Поля

Мира

Валя