

Итоговая контрольная работа по окружающему миру

3 класс

ДЕМОВЕРСИЯ

1. Рассмотрй рисунок, на котором изображена стоянка туристов. Котелок изготовлен из металла. Она отмечен на рисунке стрелкой с соответствующей надписью.

Покажи на рисунке стрелкой:

- любой предмет (любую деталь) из дерева;
- любой предмет (любую деталь) из резины.

Подпиши название соответствующего материала рядом с каждой стрелкой.



2. Распредели по группам примеры твердых веществ, жидкостей и газов:

крахмал, уксусная кислота, мел, ртуть, углекислый газ, пластмасса

Заполни таблицу:

Жидкость	Газ	Твердое тело

3. На интернет-сайтах погоды можно встретить подобные таблицы. Изучи прогноз погоды на двое суток.

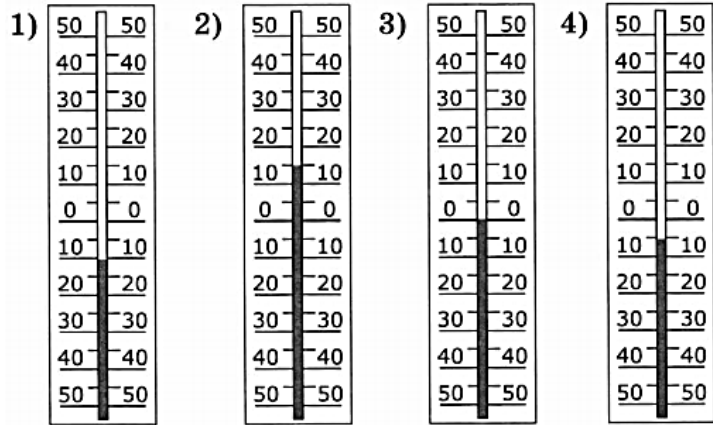
	Вторник, 17 марта				Среда, 18 марта			
	Ночь	Утро	День	Вечер	Ночь	Утро	День	Вечер
Облачность и атмосферные осадки								
Температура воздуха, °C	-1	0	1	-1	-3	4	6	2
Ветер								
	Ю	СВ	Ю	Ю	С	ЮЗ	СЗ	СЗ

Выбери два верных утверждения об ожидаемой погоде на эти двое суток и запиши в строку ответа их номера.

- Температура воздуха во вторник в течение дня будет ниже 0 °C.
- Во вторник и среду утром ожидается ясная погода.
- В среду будет преобладать южный ветер.
- Во вторник и среду осадков не ожидается.

Ответ: _____

4. Рассмотрите показания термометров.



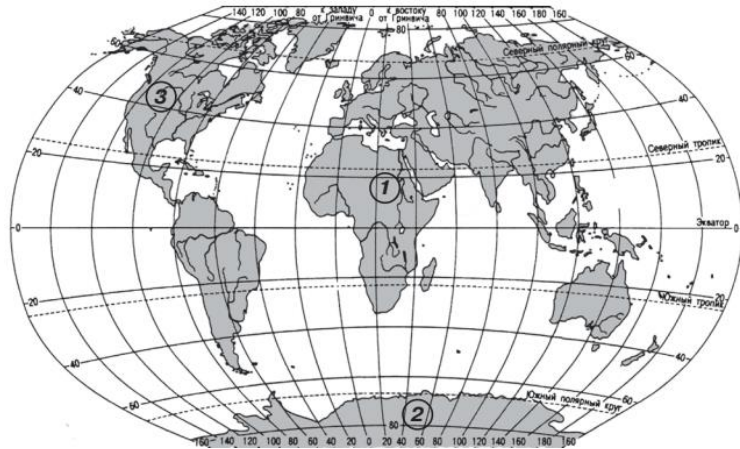
1) Запиши номер термометра, показывающего температуру *зимой* в Калининградской области.

Ответ: _____

2) Запиши номер термометра, показывающего границу между градусами тепла и градусами холода.

Ответ: _____

5. Рассмотрите изображения поверхности Земли.



Какие материки обозначены на карте цифрами?

Название материка 1: _____

Название материка 2: _____

Название материка 3: _____


6. Зачеркни лишнее слово в каждом ряду.

- 1) Белый медведь, бурый медведь, акула, тигр.
- 2) Олень, лось, заяц, сова.
- 3) Жаба, крокодил, тритон, лягушка.
- 4) Дрозд, скворец, ящерица, пингвин.

В какой строке остались только птицы? Запиши номер строки.

Ответ: _____

7. Составь цепь питания с использованием животного АИСТ.



8. Найди понятия, относящиеся к изображённому виду животного.

- 1) неживая природа
- 2) живая природа
- 3) животное
- 4) растение
- 5) земноводное
- 6) пресмыкающееся



лягушка прудовая

Запиши *все номера* верных ответов.

Ответ: _____

9. Распредели культурные растения в зависимости от их назначения.

Пшеница, хлопчатник, люцерна, гречиха, клевер, лён

Заполни таблицу.

Вид культуры	Название растения
Прядильные	
Зерновые	
Кормовые	

10. О каком свойстве воды говорит опыт, изображенный на рисунке? Запиши номер верного ответа.



- 1) вода не имеет запаха
- 2) вода растворитель
- 3) вода прозрачная и бесцветная

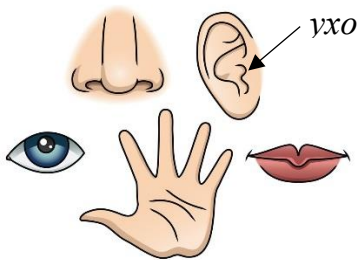
Ответ: _____

11. Внимательно рассмотри рисунки. Какими органами чувств пользуется человек?

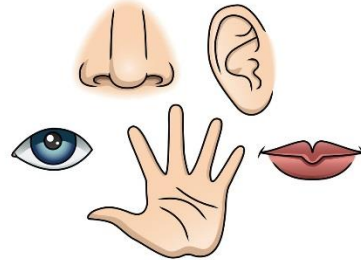
На левом рисунке стрелкой отмечен *орган слуха* — *ухо*.

На правом рисунке покажи по образцу *орган обоняния* и *орган осязания*.

Образец:



Ответ:



12. Составь два правила сохранения здоровья человека из приведённых частей фраз: для этого к каждой позиции первого столбца подбери соответствующую позицию из второго столбца.

Начало фразы

- А) Чтобы избежать кишечных инфекций,
- Б) Чтобы зрение не ухудшилось,

Продолжение фразы

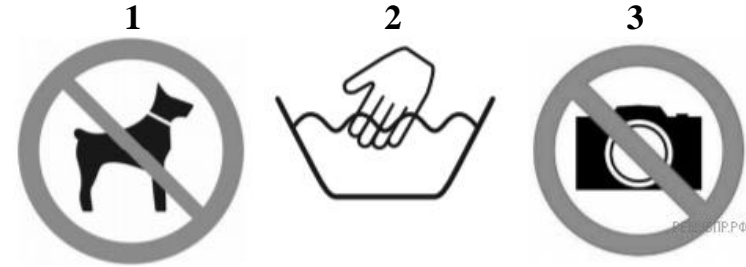
- 1) делай по утрам оздоровительную гимнастику.
- 2) тщательно мой сырые овощи и фрукты.
- 3) располагай настольную лампу слева.

Запиши в таблицу выбранные цифры под соответствующими буквами.

Ответ:

Начало фразы	А	Б
Продолжение фразы		

13. Рассмотрите знаки, изображённые на рисунках, и ответьте на вопросы.



1) Какой из этих знаков можно встретить у входа в поликлинику?

Ответ: _____

Какое правило отражает этот знак?

2) Какие правила отражают два других знака? Запиши ответы в таблицу.

ЗНАК	ПРАВИЛО

14. Представители какой профессии работают в поликлинике?

1) Запиши название одной профессии.

Ответ: _____

2) Какую работу выполняет человек этой профессии?

3) Чем работа людей этой профессии полезна обществу?

14. 9 мая во всех городах России проходит торжественное шествие «Бессмертный полк».

2024

ЯНВАРЬ							ФЕВРАЛЬ							МАРТ							АПРЕЛЬ						
ПН	ВТ	СР	ЧТ	ПТ	СБ	ВС	ПН	ВТ	СР	ЧТ	ПТ	СБ	ВС	ПН	ВТ	СР	ЧТ	ПТ	СБ	ВС	ПН	ВТ	СР	ЧТ	ПТ	СБ	ВС
1	2	3	4	5	6	7	5	6	7	8	9	10	11	4	5	6	7	8	9	10	1	2	3	4	5	6	7
8	9	10	11	12	13	14	12	13	14	15	16	17	18	11	12	13	14	15	16	17	8	9	10	11	12	13	14
15	16	17	18	19	20	21	19	20	21	22	23	24	25	18	19	20	21	22	23	24	15	16	17	18	19	20	21
22	23	24	25	26	27	28	26	27	28	29	25	26	27	28	29	30	31	22	23	24	25	26	27	28			
29	30	31												29	30												

МАЙ							ИЮНЬ							ИЮЛЬ							АВГУСТ						
ПН	ВТ	СР	ЧТ	ПТ	СБ	ВС	ПН	ВТ	СР	ЧТ	ПТ	СБ	ВС	ПН	ВТ	СР	ЧТ	ПТ	СБ	ВС	ПН	ВТ	СР	ЧТ	ПТ	СБ	ВС
1	2	3	4	5	3	4	5	6	7	8	9	1	2	3	4	5	6	7	1	2	3	4					
6	7	8	9	10	11	12	10	11	12	13	14	15	16	8	9	10	11	12	13	14	5	6	7	8	9	10	11
13	14	15	16	17	18	19	17	18	19	20	21	22	23	15	16	17	18	19	20	21	12	13	14	15	16	17	18
20	21	22	23	24	25	26	24	25	26	27	28	29	30	22	23	24	25	26	27	28	19	20	21	22	23	24	25
27	28	29	30	31									29	30	31	26	27	28	29	30	31	26	27	28	29	30	31

СЕНТЯБРЬ							ОКТАБРЬ							НОЯБРЬ							ДЕКАБРЬ						
ПН	ВТ	СР	ЧТ	ПТ	СБ	ВС	ПН	ВТ	СР	ЧТ	ПТ	СБ	ВС	ПН	ВТ	СР	ЧТ	ПТ	СБ	ВС	ПН	ВТ	СР	ЧТ	ПТ	СБ	ВС
						1	1	2	3	4	5	6	1	2	3	2	3	4	5	6	7	8					
2	3	4	5	6	7	8	7	8	9	10	11	12	13	4	5	6	7	8	9	10	9	10	11	12	13	14	15
9	10	11	12	13	14	15	14	15	16	17	18	19	20	11	12	13	14	15	16	17	16	17	18	19	20	21	22
16	17	18	19	20	21	22	21	22	23	24	25	26	27	18	19	20	21	22	23	24	23	24	25	26	27	28	29
23	24	25	26	27	28	29	28	29	30	31	25	26	27	28	29	30	30	31	30	31	30	31					

1) Обведи эту дату в календаре.

2) Запиши, на какой *день недели* приходится эта дата в 2024 году.

Ответ: _____

3) Запиши, в какое *время года* проходит торжественное шествие «Бессмертный полк»?

Ответ: _____

4) Кому посвящается это шествие? Почему оно важно для жителей России? (Напиши ответ объёмом до трёх предложений).

15. Проследи по карте границу России.



1) Запиши четыре любых страны, которые граничат с Россией.

Подчеркни: 1) красным цветом страну, которая граничит с Россией на юге; 2) синим цветом страну, которая граничит с Россией на западе.

2) Запиши название своего региона _____

3) Как называется главный город твоего региона?

Ответ: _____

4) Какие растения встречаются в природе твоего региона? Запиши не менее трёх растений.

5) Опиши одно из этих растений. Как это растение используется людьми?
